
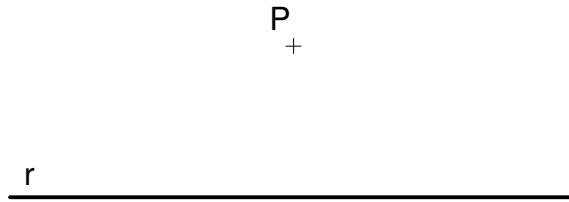


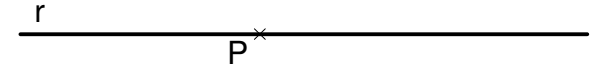
1. Dibuja la mediatriz del segmento AB.



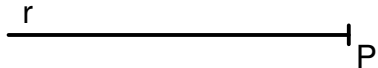
2. Dibuja la recta perpendicular a la recta "r" que pasa por el punto P.




3. Dibuja la recta perpendicular a "r" que pase por el punto P.



4. Dibuja la recta perpendicular a "r" que pase por el punto P.



5. Dibuja una recta paralela a la recta "r" a una distancia "d".



6. Dibuja una recta paralela a "r" que pase por el punto P.




LÁMINA 4

CONSTRUCCIONES GRÁFICAS FUNDAMENTALES

NOMBRE:

Nº:

APELLIDOS: